



Муниципальное автономное образовательное учреждение  
дополнительного образования

Детско-юношеский центр «Звёздочка» г. Томска

634012, г. Томск, ул. Елизаровых, 2,

тел. (8-3822) 42-52-33, факс: (8-3822) 41-43-90,

e-mail [star@education70.ru](mailto:star@education70.ru), официальные страницы:

<https://vk.com/public215915128>, [https://vk.com/zvezdochka\\_tomsk](https://vk.com/zvezdochka_tomsk)

## Всероссийский дистанционный конкурс

«Да здравствует головоломка - 2025!»

### Задания для детей 1 класса

Фамилия \_\_\_\_\_

Имя \_\_\_\_\_

Образовательное учреждение с указанием населенного пункта

---

---

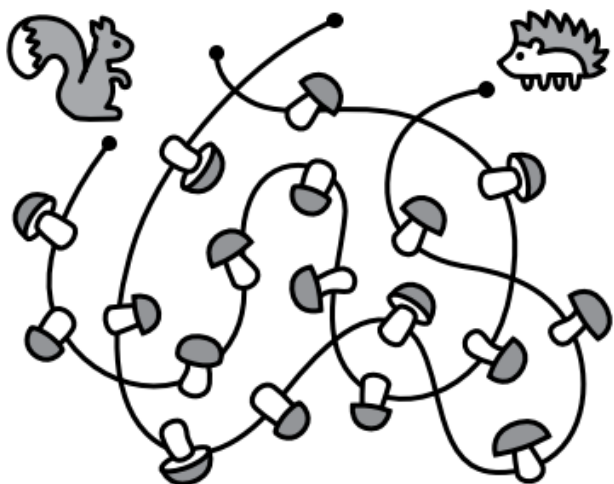
---

### Инструкция для взрослых

Уважаемые взрослые! Создайте детям комфортные условия, чтобы выполнение заданий конкурса стало для них увлекательной игрой. Читайте задания последовательно, при необходимости повторяйте несколько раз, чтобы каждый ребенок понял, что от него требуется. Задание выполняется прямо на этих листах. Рекомендуем следующий временной режим при организации выполнения заданий: 20 минут на первую часть «Задания на общую эрудицию», после чего необходимо дать детям 10-15 минут перерыв. Вторая часть «Задача – ситуация творческого характера» проводится в течении 15 минут. Не подсказывайте детям: задания оцениваются и на оригинальность. Успехов Вам и Вашим талантливым детям!

## Задания на общую эрудицию


1. Ёжик и Белочка сушат грибы на зиму, каждый на своей веревочке. Посчитайте сколько грибов у Белочки. Найдите это число в табличке справа и обведите его.



2	13	1	20	6	19
11	22	15	10	14	7
9	5	17	3	4	24
21	12	8	18	23	16

2. Сколько правых рук на рисунке? Ответ: \_\_\_\_\_.

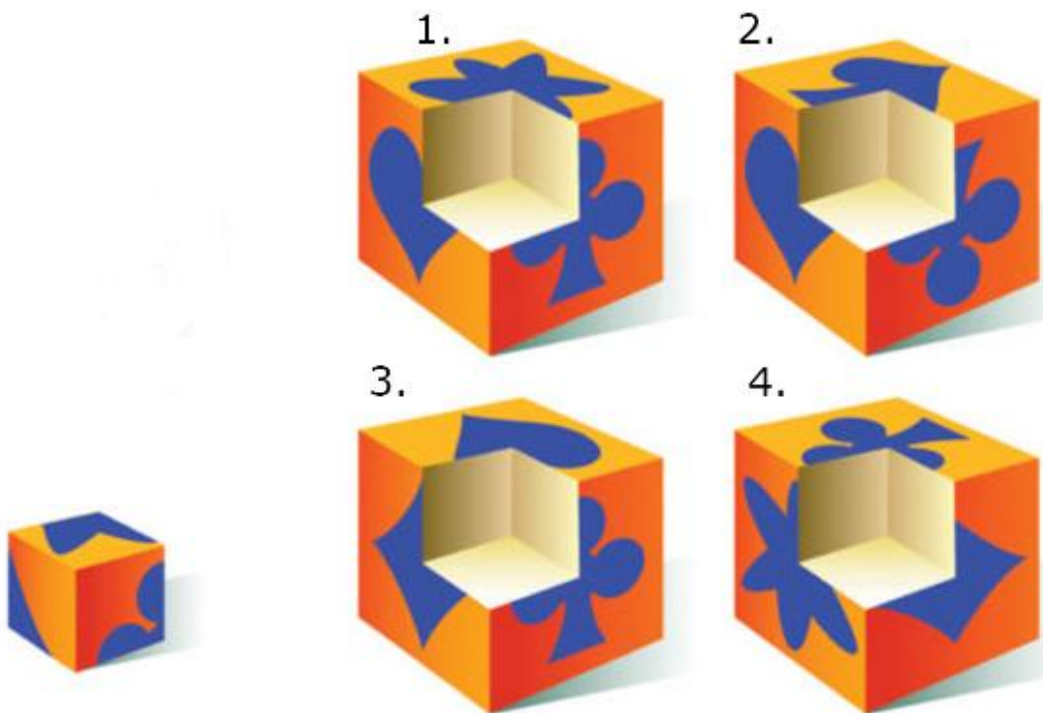
Раскрась правые руки, левые зачеркни.





3. Найди 8 отличий и отметь их.



















4. Из какого большого куба выпал маленький кубик слева? Ответ: \_\_\_\_\_.



5. Рассмотрите таблицу. Найдите буквы и цифры в таблице. С помощью этой таблицы напишите телеграммы. Значок  обозначает «любит есть».





Образец: ответа «3Б  1Г» обозначает «Лягушка любит есть комаров».

	А	Б	В	Г
1				
2				
3				
4				

4А       2Б       3Г       1Б 

4Б       1В       2Г       3Б 

6. Заполните таблицу так, чтобы фигуры не повторялись в каждом столбце, в каждой строке и в маленьких квадратах.

## Задание творческого характера

### *7. Каким будет твоё будущее?*

*Вглядишься в хрустальный шар и попробуй нарисовать своё будущее.*

